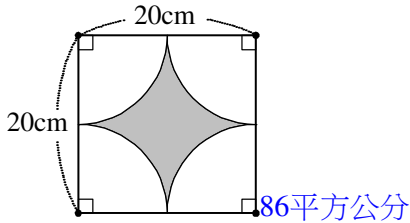
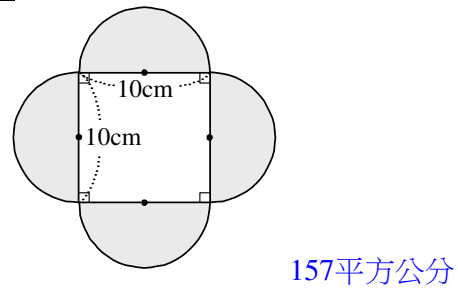


分 數	家長簽章

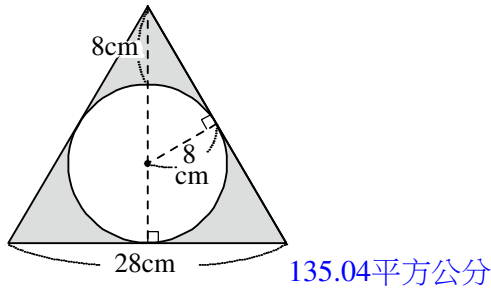
01 塗色部分的面積大約是多少平方公分？



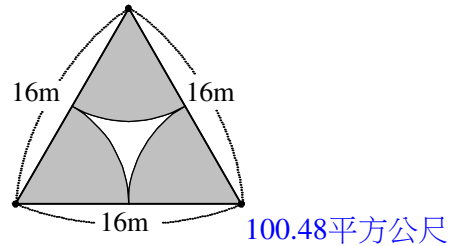
02 塗色部分的面積大約是幾平方公分？



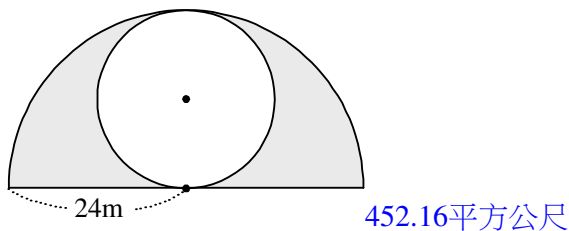
03 塗色部分的面積大約各是多少平方公分？



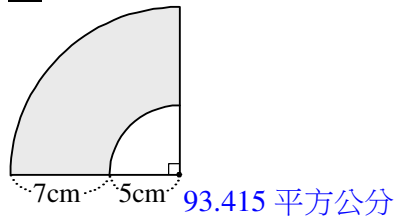
04 塗色部分的面積大約是多少平方公尺？



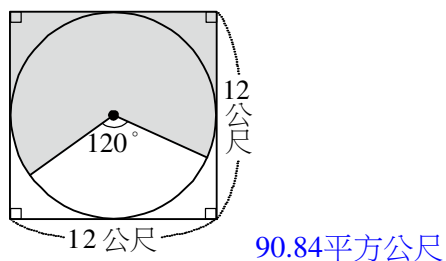
05 塗色部分的面積大約各是多少平方公尺？



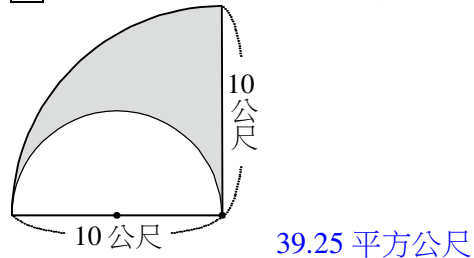
06 塗色部分的面積大約各是多少平方公分？



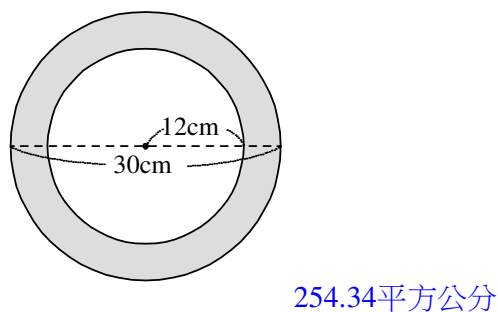
07 塗色部分的面積大約是幾平方公尺？



08 塗色部分的面積大約各是多少平方公尺？



09 塗色部分的面積大約各是多少平方公尺？
塗色部分的面積大約各是多少平方公分？



10 下面是運動公園環形跑道的示意圖，塗色部分的面積大約是多少平方公尺？

