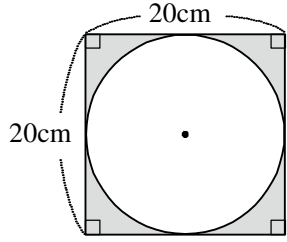


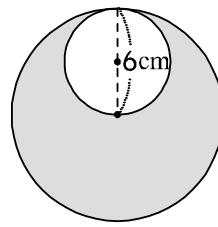
分 數	家長簽章

01 塗色部分的面積大約各是多少平方公分？



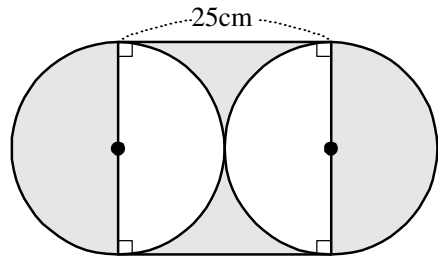
86平方公分

02 塗色部分的面積大約各是多少平方公分？



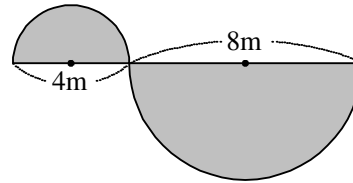
84.78平方公分

03 塗色部分的面積大約各是多少平方公分？



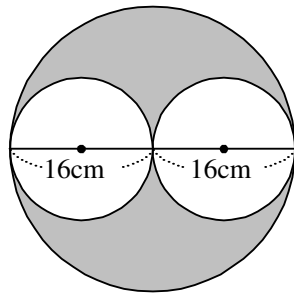
625平方公分

04 塗色部分的面積大約是多少平方公尺？



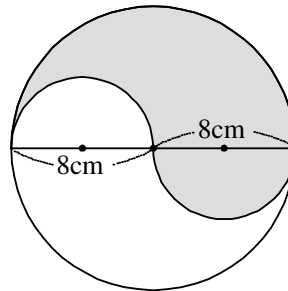
31.4平方公尺

05 塗色部分的面積大約各是多少平方公分？



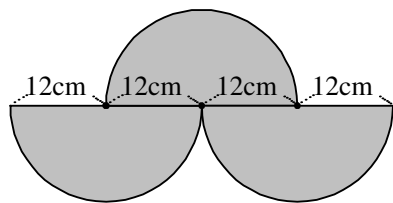
401.92平方公分

06 塗色部分的面積大約各是多少平方公分？



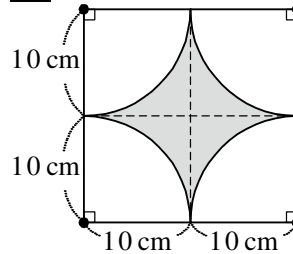
100.48平方公分

07 塗色部分的面積大約是多少平方公分？



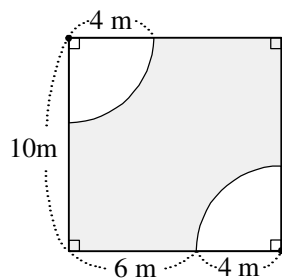
678.24平方公分

08 塗色部分的面積大約是幾平方公分？



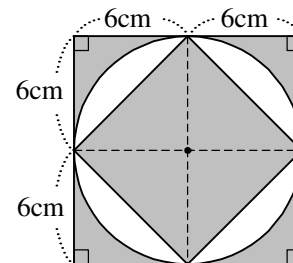
86平方公分

09 塗色部分的面積大約各是多少平方公尺？



74.88平方公尺

10 塗色部分的面積大約各是多少平方公分？



102.96平方公分

