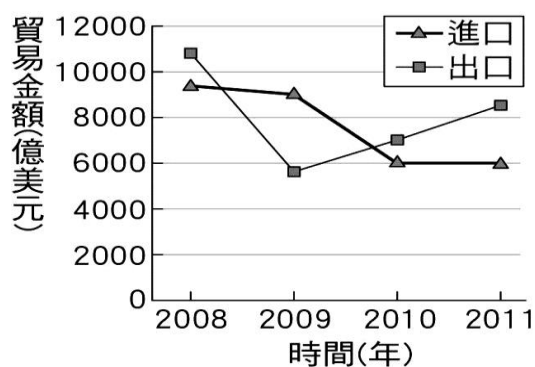


臺北市立景興國民中學 102 學年度第二學期 七年級 社會科 第二次段考試題

1. 哪種類型的工業產品通常體積較小、重量較輕，且發展上需投入大量勞力？
(A)輕工業 (B)重工業 (C)資訊工業 (D)高科技工業
2. 下圖為某種工業區位的示意圖，由圖文可知此工廠最可能為下列何者？
(A)水泥廠 (B)煉鋁廠 (C)玩具廠 (D)麵包廠

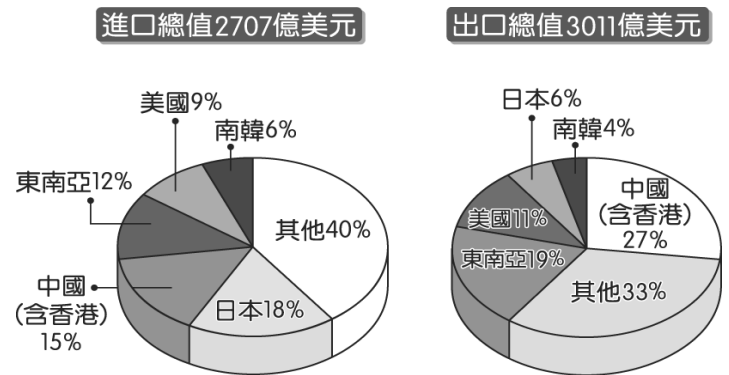


3. 「民國50年代中期，臺灣的工業政策為出口導向，政府利用勞力密集的優勢，在高雄港附近成立了第一個加工出口區，並以各種優惠的條件吸引業者投資設廠。」由以上敘述可知，高雄加工出口區的設置，並不包含下列哪個區位條件？
(A)交通 (B)政策 (C)勞力 (D)市場
4. 臺灣下列何種產業的興起，與民國60年代政府推動十大建設最相關？
(A)紡織業 (B)石油化學工業
(C)晶圓代工業 (D)生物科技產業
5. 剛剛從資訊工程研究所畢業的小花，想要到科學工業園區工作，下列哪個縣市可提供的相關工作機會最多？
(A)基隆 (B)宜蘭 (C)新竹 (D)屏東
6. 下列哪種商業型態，具有「商品種類多樣、消費者自助採購、賣場寬闊且停車方便」的特色？
(A)批發 (B)零售 (C)量販 (D)網路購物
7. 右圖為景興國在2008年至2011年進出口貿易的年度資料。根據圖中內容判斷，景興國在哪一年的貿易入超金額最多？
(A)2008年 (B)2009年 (C)2010年 (D)2011年

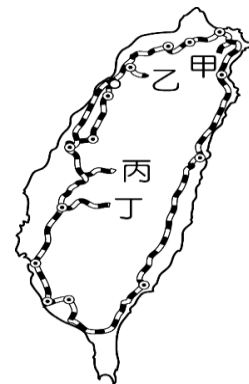


8. 「此產業被視為21世紀的明星產業，不但可以增加收入、創造就業機會、促進國際交流、推廣地方文化，並且對環境的汙染程度很低，世界各已開發國家皆積極推動發展。」由上文所述，此產業活動應為下列何者？
(A)農業 (B)重工業 (C)觀光業 (D)高科技產業
9. 風靡全球的即時通訊軟體『LINE』以及臉書『Facebook』，讓人隨時隨地享受免費通話或免費傳訊的溝通樂趣。上述兩種軟體傳遞資訊使用的是何種通訊方式？
(A)郵政 (B)廣播 (C)管線 (D)網際網路

10. 下圖為臺灣某年進口與出口總值的比例圖，由圖可知臺灣對何國的貿易依賴程度最高？
(A)中國 (B)日本 (C)美國 (D)南韓



11. 下圖為臺灣鐵路支線分布圖。若要在元宵節前往平溪參加萬人齊放天燈的活動，必須搭乘圖中的哪條支線鐵路？
(A)甲 (B)乙 (C)丙 (D)丁



12. 臺灣的鐵路線大致呈環狀分布，主要是受下列何種因素的影響？
(A)河川分布 (B)山脈走向
(C)氣候條件 (D)人口分布
13. 蔣渭水高速公路也就是俗稱的北宜高速公路，北起南港，南至蘇澳，而此路段的開通，最可能讓哪條鐵路線的載客量降低？
(A)縱貫線 (B)南迴線 (C)北迴線 (D)宜蘭線
14. 住在臺北的小新想在母親節前夕宅配禮品給住在花蓮的媽媽，宅配業者通常會選擇何種運輸方式？
(A)空運 (B)鐵路 (C)公路 (D)水運
15. 臺灣的活鰻魚外銷到日本，通常會使用空運的方式，這是因為空運具有下列哪項優點？
(A)速度較快 (B)運費較低
(C)機動性高 (D)宜短途運輸
16. 下表是小明分析臺灣某港口的發展條件，依表中內容判斷，最可能是指下列哪個港口？
(A)高雄港 (B)臺中港 (C)花蓮港 (D)基隆港

發展條件	
優點	1. 形勢良好的灣澳 2. 鄰近大台北都會區
缺點	1. 丘陵環抱、腹地狹小 2. 雨日較多，影響貨物裝卸

17. 臺灣捷運以車廂整潔、乘客秩序優良而聞名世界，若外國遊客想要親身體驗，可以造訪下列哪兩個城市？
(A)臺北、臺中 (B)桃園、新竹
(C)臺北、高雄 (D)嘉義、臺南