

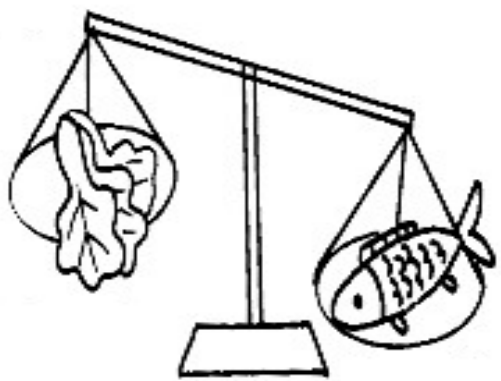
一、選擇題：每題 2 分、共 10 分

- ( ) 1. 鐘面<sup>上</sup>的<sup>時</sup>針<sup>指</sup>在<sup>1</sup>和<sup>2</sup>之<sup>間</sup>，分<sup>針</sup>指<sup>在</sup>3，這<sup>時</sup>候<sup>是</sup>幾<sup>點</sup>幾<sup>分</sup>？  
 ① 1 點 3 分 ② 1 點 15 分 ③ 2 點 3 分
- ( ) 2. 6 點 40 分<sup>時</sup>，鐘面<sup>上</sup>的<sup>時</sup>針<sup>會</sup>指<sup>在</sup>6 和<sup>7</sup>之<sup>間</sup>，分<sup>針</sup>會<sup>指</sup>向<sup>鐘</sup>面<sup>上</sup>的<sup>哪</sup>一<sup>個</sup>數<sup>字</sup>？ ① 6 ② 7 ③ 8
- ( ) 3. 5 個<sup>6</sup>再<sup>加</sup>上<sup>多</sup>少<sup>合</sup>起<sup>來</sup>會<sup>是</sup>8 個<sup>6</sup>？  
 ① 30 ② 24 ③ 18
- ( ) 4. 姐<sup>姐</sup>做<sup>1</sup>條<sup>手</sup>鍊<sup>要</sup>用<sup>7</sup>顆<sup>珠</sup>子，姐<sup>姐</sup>做<sup>了</sup>4 條<sup>手</sup>鍊<sup>，</sup>共<sup>要</sup>幾<sup>顆</sup>珠<sup>子</sup>？  
 ① 28 顆 ② 32 顆 ③ 36 顆
- ( ) 5. 將<sup>籃</sup>球<sup>、</sup>排<sup>球</sup>和<sup>網</sup>球<sup>放</sup>在<sup>天</sup>平<sup>上</sup>比<sup>一</sup>比<sup>，</sup>已<sup>知</sup>籃<sup>球</sup>比<sup>排</sup>球<sup>重</sup>，排<sup>球</sup>比<sup>網</sup>球<sup>重</sup>，哪<sup>一</sup>個<sup>最</sup>輕<sup>？</sup>  
 ① 籃<sup>球</sup> ② 排<sup>球</sup> ③ 網<sup>球</sup>

二、比比看：每格 2 分、共 20 分

1. 哪<sup>一</sup>個<sup>比</sup>較<sup>重</sup>？在<sup>( )</sup>裡<sup>打</sup>✓：

(1)



( ) ( )

(2)



( ) ( )

2. 比<sup>一</sup>比<sup>，</sup>在<sup>( )</sup>裡<sup>填</sup>入<sup>></sup>、<sup><</sup>或<sup>=</sup>：

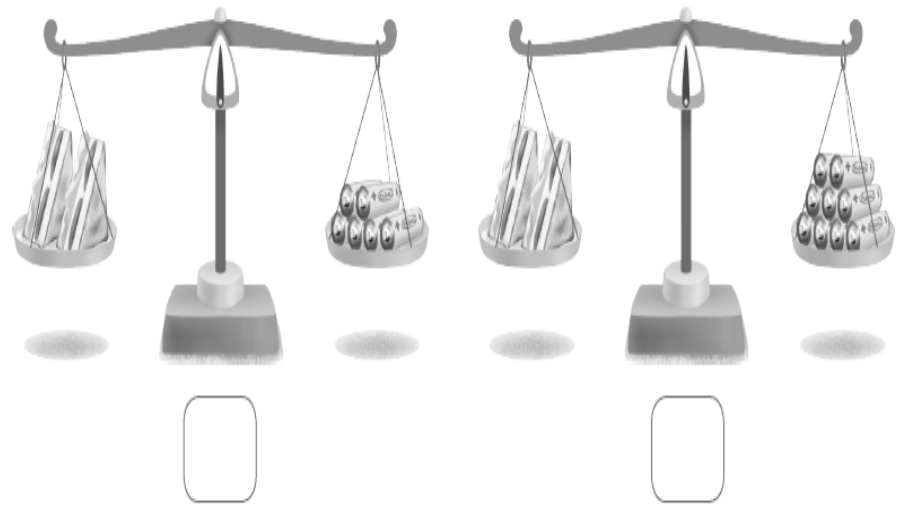
(1)  $7 \times 7$  ( )  $50$

(2)  $9 \times 5$  ( )  $40$

(3)  $3 \times 8$  ( )  $6 \times 4$

(4)  $9 \times 3$  ( )  $3 \times 9$

3. 1 個<sup>錐</sup>和<sup>3</sup>個<sup>蠟</sup>一<sup>樣</sup>重<sup>，</sup>2 個<sup>錐</sup>和<sup>幾</sup>個<sup>蠟</sup>一<sup>樣</sup>重<sup>？</sup>對<sup>的</sup>在<sup>( )</sup>中<sup>打</sup>✓：



三、連連看：每個選項 1 分、共 8 分

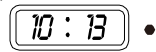
1. 連<sup>到</sup>正<sup>確</sup>的<sup>時</sup>刻<sup>：</sup>

(1)



• 甲. 9 時 30 分

(2)



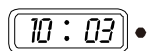
• 乙. 10 時 3 分

(3)



• 丙. 10 時 0 分

(4)



• 丁. 10 時 13 分


2. 連<sup>到</sup>正<sup>確</sup>的<sup>時</sup>刻<sup>：</sup>

(1)



• ㄅ. 3 點 17 分

(2)



• ㄆ. 6 點 51 分

(3)



• ㄇ. 1 點 37 分

(4)



• ㄏ. 9 點 43 分

四、填填看：每格1分、共23分

1. 時鐘的長針又叫作( )針，短針又叫作( )針。
2. 鐘面上一共共有( )小格，1小格是( )分鐘。長針走一大格是經過( )分鐘。
3.  $9 \times 7 = ( )$ ，在這個算式中，9是( )數，7是( )數，積是( )。
4.  $3 \times 5$ 就是( )有( )個，叫作( )的( )倍，是( )。
5. 3有3個是( )，9有9個是( )。
6.  $7 \times 8$ 比 $7 \times 2$ 多( )個7，是多( )。
7.  $6 \times 3$ 比 $6 \times 9$ 少( )個6，是少( )。
8. 天平兩端沒放東西時，天平會( )；放了兩樣不一樣重的物品，重的那一邊會比較( )，輕的那一邊會比較( )。(填高或低)

五、應用題：每題3分、共21分

1. 1個禮盒裡有3包餅乾，7個相同的禮盒共有幾包餅乾？

答：( )包

2. 8個9合起來是多多少？

答：( )

3. 今年媽媽的年齡剛好是妹妹的5倍，妹妹今年7歲，媽媽今年幾歲？

答：( )歲

4. 1袋軟糖有6小包，老師買了2袋，共有幾小包軟糖？

答：( )小包

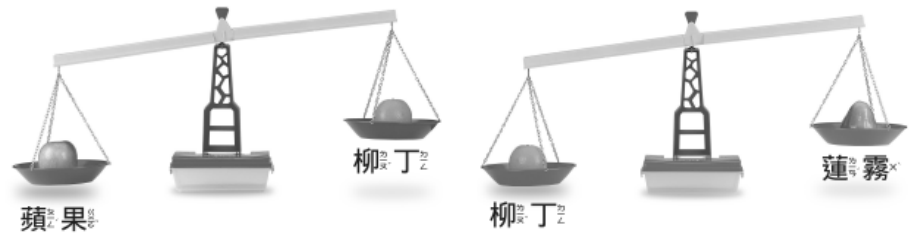
5. 小南這一班去戶外教學，從早上8點開始，一直待到中午12點才離開。請問：小南他們的戶外教學有多長的時間？

答：( )小時

6. 普悠瑪火車到達台北的時間是下午6時，從台東出發是下午3時。請問：這一班次的火車從台東到台北共要幾個小時？

答：( )小時

7. 比比看，哪一個水果最重？

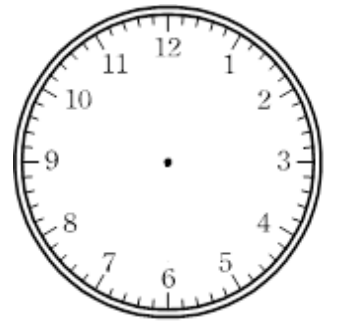


答：( )最重

六、畫畫看：每格1分、圖4分、共18分(請用尺畫)

1. 星期一早上

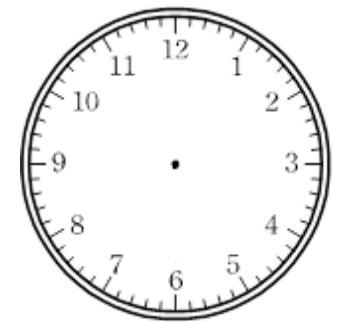
( )點( )分升旗。



2. 我們在中午

( )點( )分

開始刷牙工作。



3. 星期二下午

( )點( )分集合，

準備放學。

