

一、選擇題：每題 2 分、共 10 分

- () 1. 199 再加 1 是多多少？ ①198 ②200 ③210
- () 2. 1 個百和 8 個十合起來是多多少？
①108 ②180 ③280
- () 3. 下面哪一個數最大？
①71 ②132 ③109
- () 4. 有一個數比 122 大，比 124 小，這個數應該是多多少？ ①121 ②123 ③125
- () 5. 用不同的物品量桌子的寬度，彩色筆量了 5 次，鉛筆量了 4 次，哪一個物品比較長？
①彩色筆 ②鉛筆 ③一樣長

二、連連看：第 2 題每小題 2 分，餘各 1 分、共 25 分

1. 數數看，左邊各是多多少？把相同的數連起來：

① 	• • •	ㄅ 150
② 	•	ㄨ 155
③ 	•	ㄇ 129
	•	ㄘ 160
	•	ㄨ 106

2. 把答案相同的算式連起來：

① 63+25	② 12+79	③ 36+45
•	•	•
•	•	•
ㄅ 29+62	ㄨ 53+35	ㄇ 44+37
•	•	•
•	•	•
A 73+15	B 11+70	C 56+35

3. 怎麼讀？連連看：

① 159	•	ㄅ. 一百三十九
② 130	•	ㄨ. 三百
③ 201	•	ㄇ. 二百零一
④ 300	•	ㄘ. 一百五十九

三、填填看：第 3、5 題每格 1 分，餘各 2 分、共 45 分

1. 把下面各題的三個數由小排到大：




() → () → ()

(2)



() → () → ()

(3)



() → () → ()

2. 比一比，在 () 裡填入 >、< 或 =：

(1) 55 () 32+18

(2) 62 () 45+12

(3) 39+25 () 64

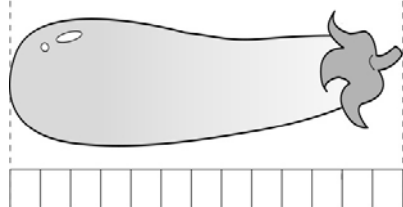
(4) 59+92 () 88+63

3. 比比看，哪一個比較長？比較長的在

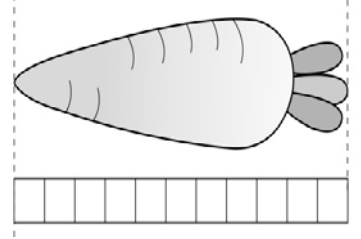
() 裡打 √：

(1) ()

(2) ()



有 () 個 □



有 () 個 □

4. 填入適當的數：

- (1)
 $196 - () - 198 - 199 - () - ()$
- (2)
 $() - 290 - 280 - () - 260 - ()$
- (3)
 $181 - () - () - 151 - 141 - ()$
- (4)
 $220 - () - 210 - 205 - () - ()$
- (5)
 $83 - 93 - () - () - 123 - ()$

四、配合題：每題2分、共8分

1. 中的數字表示多少？對的在()裡

打✓：

1 4 7

- (1) () 4個一
- (2) () 4個十
- (3) () 4個百

2. 圈出最接近「 $42+39$ 」答案的數。



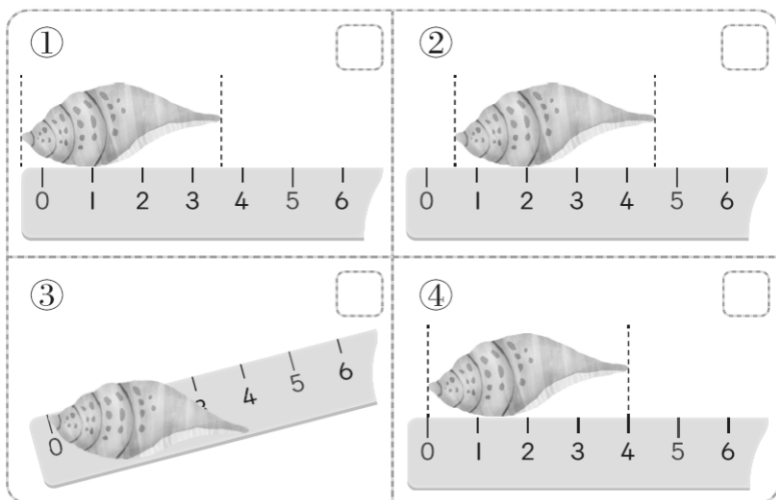
3. 奇奇有49元，妙妙有48元，兩人合錢

合買一個100元的皮球，夠不夠？

- (1) 夠 (2) 不夠

4. 貝殼有多長？下面哪一種量法是對的？

在 中打✓：



五、應用題：每題3分、共9分

1. 虎克有62頂帽子，魯夫比虎克多56頂，魯夫有幾頂帽子？

答：有 () 頂

2. 子恩有56張數碼寶貝圖卡，子浩有38張數碼寶貝圖卡，兩人共有幾張數碼寶貝圖卡？

答：有 () 張

3. 老師買了一碗25元的魚丸湯和一個75元的便當，共花了多少元？

答：() 元

六、畫畫看：每題3分、共3分（完整作答才給分）

1. 你的一根手指有多長？畫畫看看，並寫出答案。

答：（ ） 公 $\frac{5}{2}$ 分 $\frac{5}{2}$