




鐘面上的短針和長針可以表示時刻。




短針指向 2，

長針指向 12。

現在是 2 點。


畫出短針表示每一個時刻。

1




3 點

2



5 點


3



7 點


寫出時刻。

1




_____ 點

2



_____ 點


3




_____ 點



當長針指向 6，表示「半點」的時刻。



8 點




8 點半

長針在鐘面上
走了半圈。


寫出每一個時刻。

1




_____ 點半

2




_____ 點半

3



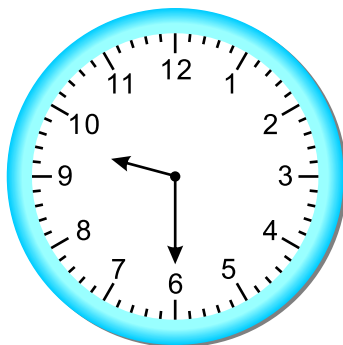
_____ 點半

4




_____ 點半

5



_____ 點半

6



_____ 點半



下面有一些活動大概花費1分鐘的時間。其他的活動大概花1小時的時間。

烤土司大概要花

1分鐘的時間。



1分鐘比較短。

做晚餐大概要花

1小時的時間。



1小時比較長。

做下面的活動要花多少時間？圈圈看。

1



大約 (1分鐘 1小時)

2



大約 (1分鐘 1小時)

4



大約 (1分鐘 1小時)

5



大約 (1分鐘 1小時)