

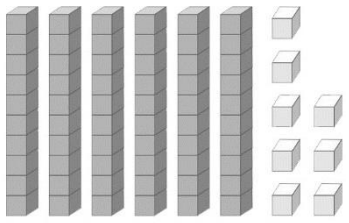


姓名

<p>(1) $63 - 64 - (\quad)$ $- (\quad) - (\quad) - 68$</p> <p>(2) $77 - 78 - (\quad)$ $- (\quad) - 81 - (\quad)$</p>	<p>(7) 現在有 60 片餅乾，再烤 10 片，共有 () 片；再烤 10 片，共有 () 片。</p>
<p>(3) $50 - 60 - (\quad)$ $- (\quad) - 90 - (\quad)$ 《答案》70, 80, 100</p> <p>(4) $45 - 55 - (\quad)$ $- (\quad) - (\quad) - 95$</p>	<p>(8) 一串荔枝有 10 顆。  上面有 () 顆荔枝。再加 1 顆，共有 () 顆荔枝；再加 1 顆，共有 () 顆荔枝。</p>
<p>(5) 架子上有 98 輛玩具車，再放上 1 輛，共有 () 輛；再放上 1 輛，共有 () 輛。</p>	<p>(9) 一串手鍊有 10 顆。  共有 () 顆，再加 10 顆，一共共有 () 顆。</p>

<p>(10) $68 - 67 - (\quad)$ $- (\quad) - (\quad) - 63$</p> <p>(11) $82 - 81 - (\quad)$ $- (\quad) - 78 - (\quad)$</p>	<p>(16) 玩具店裡有 80 輛玩具車，賣掉 1 輛，剩下 () 輛；再賣掉 1 輛，剩下 () 輛。</p>
<p>(12) $100 - 90 - (\quad)$ $- (\quad) - 60 - (\quad)$</p> <p>(13) $85 - 75 - (\quad)$ $- (\quad) - (\quad) - 35$</p>	<p>(17) 有多少少？記在定位板上。  有 () 個十和 () 個一，合起來是 ()。</p> <p>十位 個位</p>
<p>(14) 盒子裡有 100 片餅乾，吃掉 10 片，還剩下 () 片；再吃掉 10 片，還剩下 () 片。</p>	<p>(18) 10 個甜甜圈裝一盒。勇志買了 75 個甜甜圈，最多可以裝滿 () 盒，還剩下 () 個。75 可以分成 () 個十和 () 個一。</p>
<p>(15) 盒子裡有 73 片餅乾，吃掉 10 片，還剩下 () 片；再吃掉 10 片，還剩下 () 片。</p>	