

主題

4

面積



面積

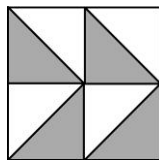


面積

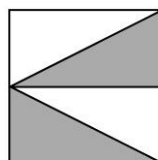


1 做做看。

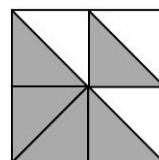
1. 小美、大華和小朱分別在同樣大小的紙卡上塗顏色，誰塗的顏色面積最多？



小美




大華



小朱

2. 下圖中，每個小方格的面积都是 1 平方公分，畫出一個面积最大的正方形，並算出面积是多少平方公分。



3. 下圖中，每個小方格的面积都是 1 平方公分，甲、乙、丙和丁四个图形中，哪一个图形的面积最大？

