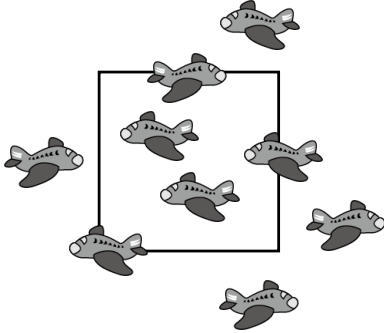


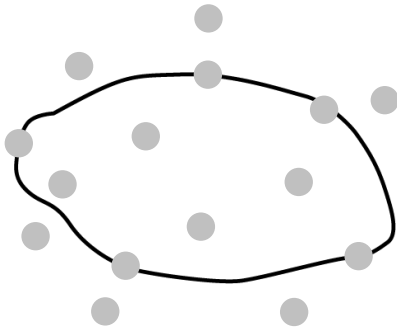
一、對的畫○，錯的打×（是非題）

1. () 沒有缺口的圖形才有周界。
2. () 下面正方形外部和周界上的飛機數量相差4架。



二、選出正確的答案（選擇題）


1. () 下面圖形的哪一個區域有5個圓點？



- ①內部 ②周界上 ③外部 ④全部。

2. () 我們可以利用圖形的什麼來區分內部和外部？ ①圖線 ②周界 ③圖周 ④圖面。

3. () 下面圓形的外部有幾個星星？

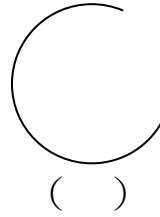


- ①4個 ②5個 ③6個 ④7個。


三、填填看

1. 下面圖形有周界的打√，沒有周界的打×：

(1)



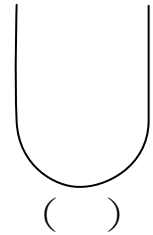
(2)



(3)




(4)



四、畫畫看

1. 用筆描出下面圖形的周界。



2. 用筆描出下面圖形的周界。

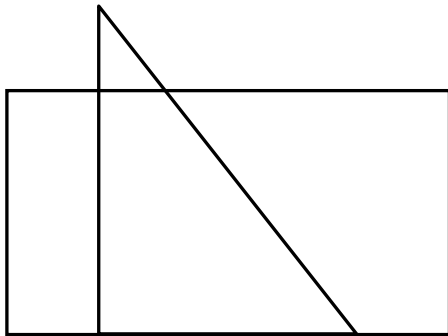


五、畫畫看

3. 用筆描出下面圖形的周界。



4. 下面有兩個圖形疊在一起，把三角形內部並且也在長方形周界的區域畫上粗線。

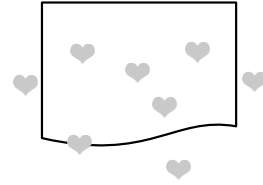


5. 用筆描出下面圖形的周界。



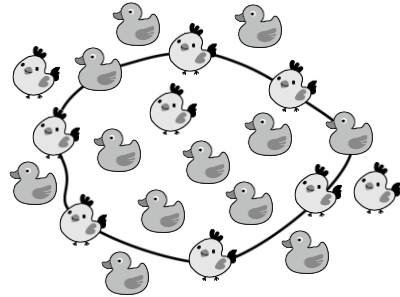
六、看圖填填看

1.



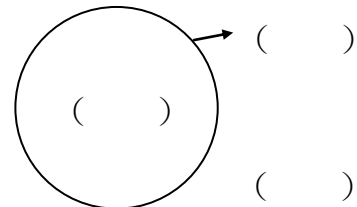
- (1) 圖形的內部有 () 個愛心。
- (2) 圖形的外部有 () 個愛心。
- (3) 圖形的周界上有 () 個愛心。

2.



- (1) 圖形的外部有 () 隻鴨子。
- (2) 圖形的周界上，雞和鴨共有 () 隻。
- (3) 在圖形內部的雞比周界上的雞少 () 隻。

3. 填入內部、外部、周界：



七、把做法和答案記下來

1. 小金玩丟沙包遊戲，結果如下圖，在圓形外部的沙包一個得0分，在圓形內部的沙包一個得10分，在圓形周界上的沙包一個得2分，小金可以得多少分？

