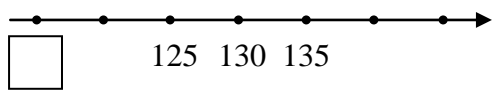


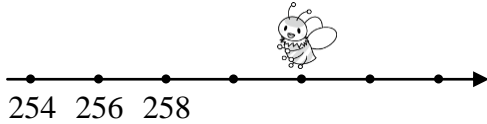
一、選出正確的答案(選擇題)

1. ()下面 中要填入代表點的數是多少？

- ① 110 ② 125 ③ 115 ④ 145。

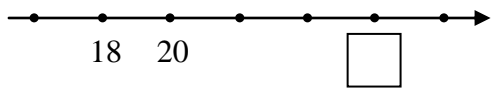


2. ()在下面的數線中，小蜜蜂的位置代表的數是多少？ ① 254 ② 262 ③ 266 ④ 272。



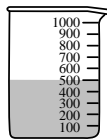
3. ()下面 中要填入代表點的數是多少？

- ① 22 ② 24 ③ 26 ④ 36。

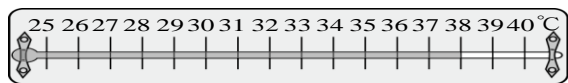


4. ()把量杯的刻度看成數線，每100毫升一數，下面量杯中的水面在幾毫升的位置？

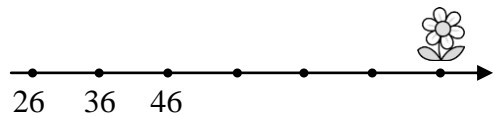
- ① 5毫升 ② 50毫升 ③ 500毫升 ④ 5000毫升



5. ()把氣溫計的刻度看成數線，每1度一數，下面氣溫計表示的溫度是幾度呢？ ① 35度 ② 36度 ③ 38度 ④ 41度。

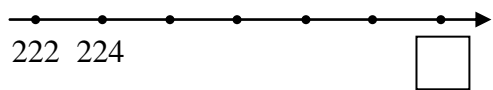


6. ()在下面的數線中，花的位置代表的數字是多少？ ① 86 ② 76 ③ 81 ④ 71。



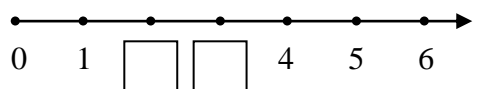
7. ()下面 中要填入代表點的數是多少？

- ① 214 ② 220 ③ 232 ④ 234。

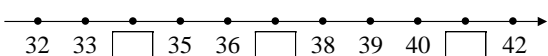


二、填填看

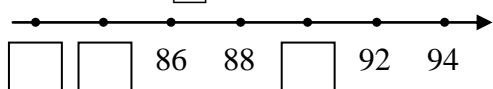
1. 在 中填入代表點的數。



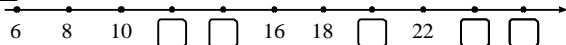
2. 在 中填入代表點的數。



3. 用2個一數，在 中填入代表點的數。

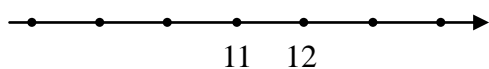


4. 在 中填入代表點的數。

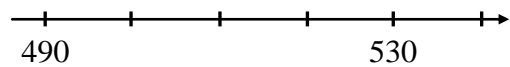


三、圈圈看

1. 圈出指定點的位置，並寫出代表點的數。代表8、10和13的點在哪裡？



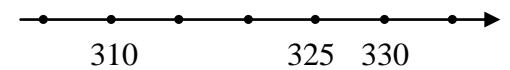
2. 圈出指定點的位置，並寫出代表點的數。代表500、520和540的點在哪裡？



四、連連看

1. 下面各數是代表數線上哪一個點？連連看。

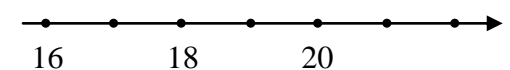
- 335 305 320



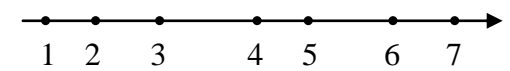
五、勾選題

1. 下面哪一條是數線？請在 中打√。

(1)

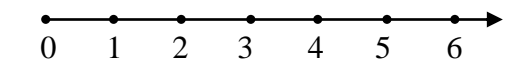


(2)



2. 下面哪一條是數線？請在 中打√。

(1)

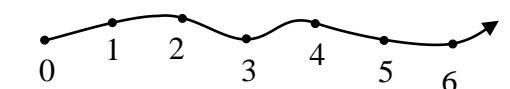


(2)

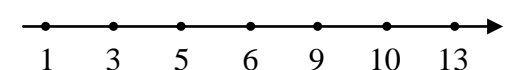


3. 下面哪一條是數線？請在 中打√。

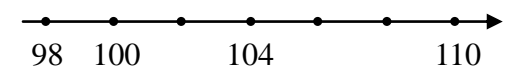
(1)



(2)

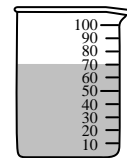


(3)

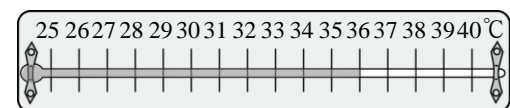


六、看圖填填看

1. 把量杯的刻度看成數線，每100毫升一數，下面量杯中的水面在()毫升的位置。



2. 把氣溫計的刻度看成數線，每1度一數，下面氣溫計表示的溫度是()度。



七、做做看

1. 代表180、205和235的點在哪裡？圈出指定點的位置，並寫出代表點的數。

2.

