


一、是非題：每格 5 分，共 5 分

1. () 4 個又 $\frac{7}{9}$ 個，讀作「四又九分之七個」。

二、選擇題：每格 5 分，共 25 分

1. () 「三又八分之六」用分數記作
 ① $3\frac{8}{6}$ ② $3\frac{6}{8}$ ③ $8\frac{3}{6}$ ④ $8\frac{6}{3}$ 。
2. () 一包有 8 顆糖果，下圖的糖果讀作幾包？



- ① 六又八分之五包 ② 六又八分之一包
 ③ 八又六分之一包 ④ 一又八分之六包

3. () 一盒餅乾有 9 塊，泉生拿了 5 盒又 6 塊，共拿了幾盒？ ① $9\frac{5}{6}$ 盒 ② $6\frac{5}{9}$ 盒 ③ $5\frac{6}{9}$ 盒 ④ 61 盒。

4. () 1 杯水又 $\frac{1}{2}$ 杯水合起來是幾杯水？ ① $\frac{1}{2}$ 杯 ② 1 杯 ③ $\frac{11}{2}$ 杯 ④ $1\frac{1}{2}$ 杯。

5. () 下列哪一個是帶分數？ ① $\frac{2}{3}$ ② $\frac{5}{3}$ ③ $7\frac{1}{3}$ ④ $\frac{5}{5}$ 。

三、填充題：每格 5 分，共 45 分

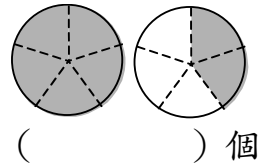
1. 一盒雞蛋有 8 顆，25 顆雞蛋可以裝 () 盒雞蛋，用帶分數記記看。
2. 5 包又 $\frac{3}{14}$ 包記作 () 包，讀作 () 包。
3. 一塊披薩平分成 12 片，媽媽買了 4 塊又 9 片，也就是 () 塊，讀作 () 塊。

4. 一瓶汽水平均倒成 9 杯，慶生會喝了 10 瓶又 7 杯，也就是 () 瓶，讀作 () 瓶。

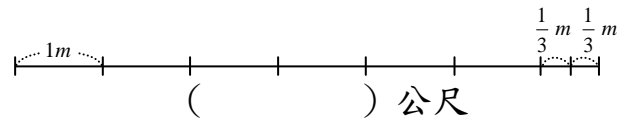
5. 一袋冰棒有 6 枝，商店昨天賣出 2 袋，今天賣出 3 袋又 4 枝，也就是共賣出 () 袋，讀作 () 袋。

四、看圖填填看：每格 5 分，共 25 分

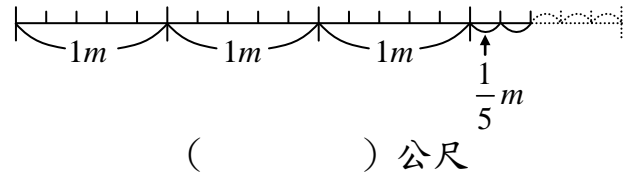
1. 有幾個圓？用帶分數記記看。



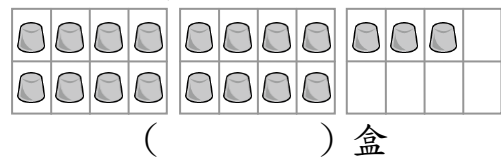
2. 下面的繩子有多長？用帶分數記記看。



3. 繩子每 1 公尺平分成 5 份，下圖繩子長幾公尺？用帶分數記記看。



4. 一盒巧克力有 8 顆，下圖有幾盒巧克力？用帶分數記記看。



5. 一盒月餅有 6 塊，下圖有幾盒月餅？用帶分數記記看。

