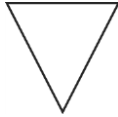


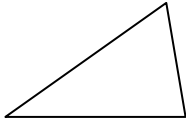
一、是非題：每題5分，共5分

1. ( )下圖是一個鈍角三角形。



二、選擇題：每題5分，共15分

1. ( )下面的圖形屬於哪一種三角形？



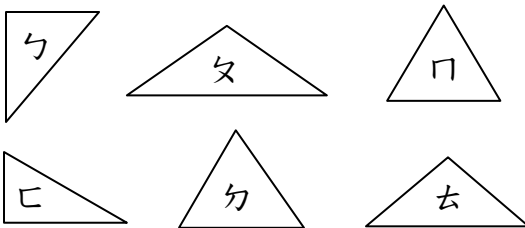
- ①直角三角形 ②銳角三角形 ③鈍角三角形  
④等腰三角形。
2. ( )一個三角形中，最多有幾個鈍角？  
①1個 ②2個 ③3個 ④不一定
3. ( )有一個三角形，三個角分別是25度、45度、110度，這是什麼三角形？  
①銳角三角形 ②直角三角形 ③鈍角三角形 ④以上都有可能。

三、填充題：每格2分，共4分

1. 有一個角是 $90^\circ$ 的三角形叫做( )三角形。
2. 三個角分別是 $40^\circ$ 、 $80^\circ$ 、 $60^\circ$ 的三角形，叫作( )三角形。

四、配合題：每格2分，共6分

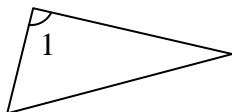
1. 看圖回答問題，並寫出代號。



- (1) 哪些是銳角三角形：( )  
(2) 哪些是直角三角形：( )  
(3) 哪些是鈍角三角形：( )

五、看圖做做看：每格5分，共10分

1. 用三角板檢查，在□內填入 $<$ 、 $=$ 或 $>$ ，再寫出正確的名稱。

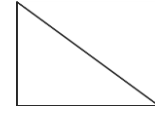


$\angle 1$  □  $90^\circ$

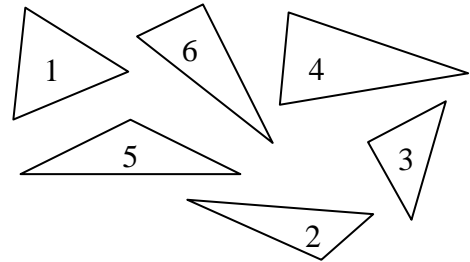
這是一個( )三角形。

六、看圖填填看：每格5分，共60分

1. 下圖是哪一種三角形？( )三角形

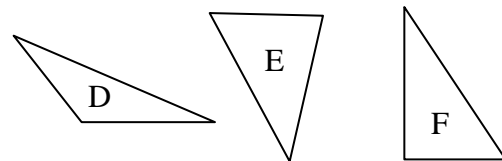
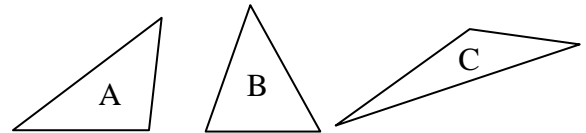


2. 量量看，將下面三角形的號碼填入。

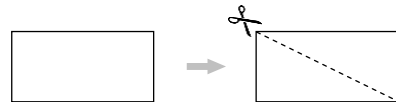


- (1) 鈍角三角形：( )  
(2) 銳角三角形：( )  
(3) 直角三角形：( )

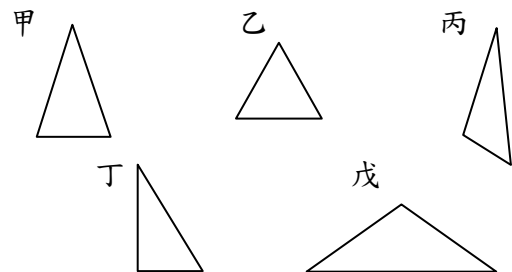
3. 下圖中，哪些圖形是鈍角三角形？填入正確的代號。( )



4. 下圖的長方形沿著虛線所剪出的三角形叫做( )三角形。



5. 用三角板或量角器量一量下列的三角形，並用代號回答問題。



- (1) ( )是直角三角形，各有( )個直角。  
(2) ( )是鈍角三角形，各有( )個鈍角。  
(3) ( )是銳角三角形，各有( )個銳角。