

一、填填看看：每格 1 分，共 11 分

- 一條緞帶長 100 公分，2 條緞帶接起來共長 ( ) 公分，也就是 ( ) 公尺。
- 3 公尺 3 公分 = ( ) 公分
- 470 公分 = ( ) 公尺 ( ) 公分
- 紅繩 1 公尺 36 公分，綠繩 129 公分，( ) 繩比較長，長 ( ) 公分。
- $9 \times 6 = ( ) \times 9 = ( )$
- (1)  $18 \times 2 = ( )$   
 (2)  $2 \times 18 = ( )$


二、圈出適當的單位：每題 2 分，共 8 分

- 教室黑板的長大約是 5 ( 公分, 公尺 )。
- 一枝鉛筆的長大約是 15 ( 公分, 公尺 )。
- 弟弟的身高大約是 125 ( 公分, 公尺 )。
- 地面到天花板的高度大約是 3 ( 公分, 公尺 )。


三、把答案不一樣連起來：每線 1 分，共 6 分

① 8+8+8	② 3+3+3+3+3	③ 5+5+5+5
•	•	•
•	•	•
ㄅ 5×4	ㄆ 8×3	ㄇ 3×5
•	•	•
•	•	•
④ 3×8	⑤ 5×3	⑥ 4×5


四、有幾顆櫻桃？填填看看：每格 1 分，共 12 分

- 
  
 ( ) × ( ) = ( )


---

- 
  
 ( ) × ( ) = ( )

---

- 
  
 ( ) × ( ) = ( )

---

- 
  
 ( ) × ( ) = ( )

五、看表填填看看：每格 1 分，共 15 分

下表是民國 104 年每月的日數：

月分	1	2	3	4	5	6
日數	31	28	31	30	31	30
月分	7	8	9	10	11	12
日數	31	31	30	31	30	31

- 哪幾個月有 30 天？  
 ( ) 月、( ) 月、  
 ( ) 月和 ( ) 月。
- 哪幾個月有 31 天？  
 ( ) 月、( ) 月、  
 ( ) 月、( ) 月、  
 ( ) 月、( ) 月和  
 ( ) 月。
- ( ) 月的天數最少。
- 民國 104 年是 ( ) 年。  
 ( 填 平 或 閏 )
- 今年是民國 104 年，明年是民國 ( ) 年。明年有 ( ) 個月。

六、先算出答案，再寫成直式：每題 3 分，共 12 分

1.  $5 \times 7 = ( \quad )$       2.  $8 \times 9 = ( \quad )$

3.  $7 \times 8 = ( \quad )$       4.  $4 \times 6 = ( \quad )$

七、看月曆填：每格 1 分，共 9 分

11月						
日	一	二	三	四	五	六
1	2	3	4	5	6	7
8	9	10	11	12	13	14
15	16	17	18	19	20	21
22	23	24	25	26	27	28
29	30					

12月						
日	一	二	三	四	五	六
		1	2	3	4	5
6	7	8	9	10	11	12
13	14	15	16	17	18	19
20	21	22	23	24	25	26
27	28	29	30	31		

- 12 月有 ( ) 個星期又 ( ) 天。
- 從 11 月 22 日到 11 月 28 日，一共共有 ( ) 天，也可以說是 ( ) 個星期。
- 工人從 11 月 14 日開始裝潢，連續 6 天，( ) 月 ( ) 日結束。
- 國際藝術玻璃節從 11 月 20 日開始，一直到 12 月 6 日結束，一共共有 ( ) 天。
- 張小姐參加旅行團出國 2 個星期，12 月 22 日回來，張小姐出國的第二天是 ( ) 月 ( ) 日。

八、做做看看：每題 4 分，共 12 分

- 小寶寶已經有 1 歲 11 個月大，1 歲 11 個月是幾個月？

2. 電冰箱的保固期是 1 年 6 個月，1 年 6 個月是幾個月？

3. 一本餐券有 21 張，固定每月用 1 張，這本餐券可以用 1 年幾個月？

九、寫出算式做做看看：每題 5 分，共 15 分

- 哥哥的身高是 151 公分，弟弟的身高是 1 公尺 32 公分，哥哥比弟弟高幾公分？
- 一條繩子長 1 公尺 75 公分，用掉 48 公分後，繩子剩下幾公分？
- 小傑的身高是 130 公分，還要再長高幾公分，身高才會 2 公尺？