

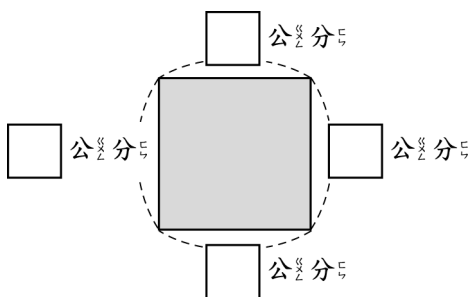
一、對的畫○，錯的打×：

每題 1 分，共 4 分

- () 長方形有 3 個邊。
- () 三角形的每個邊都一樣長。
- () 長方體的每個面都一樣大。
- () 正方體的每個邊都一樣長。

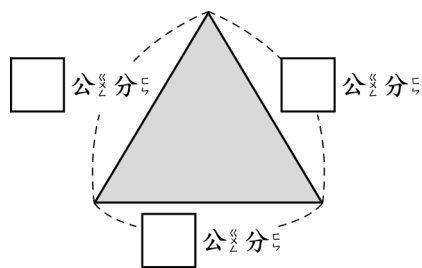
二、看圖填填看：每格 1 分，共 22 分

1.



上圖是 () 形，有 () 個頂點、() 個角、() 個邊。

2.



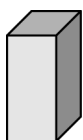
上圖是 () 形，有 () 個頂點、() 個角、() 個邊。

3.



左圖是 () 體，有 () 個面，每一個面都是 () 形。

4.




左圖是 () 體，有 () 個面、() 個頂點、() 個邊。

三、圖圖看看，填填看看：每

答 2 分，共 8 分

- 24 顆糖果，每人分 4 顆，可以分給 () 人。



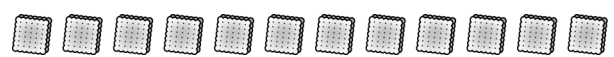
- 18 個泡芙，每 6 個裝成 1 盒，可以裝成 () 盒。



四、在對的□中打√：每題

2 分，共 6 分

- 一盒餅乾有 12 塊：



- 平分 3 盤，每盤有 4 塊餅乾。
- 每 4 塊餅乾裝成 1 袋，共可裝成 4 袋。
- 每人分 2 塊，可以分給 6 人。

五、有平行現象的畫○，

有垂直現象的打√，

都沒有的打×：每題 1

分，共 6 分

- | | | |
|-----------|-----------|-----------|
| 1.
() | 2.
() | 3.
() |
| 4.
() | 5.
() | 6.
() |

六、先算算什麼，再算算什麼？
做做看看：每題 5 分，
共 30 分

1. 1 包軟糖，草莓口味有 3 顆，葡萄口味有 3 顆，4 包共幾顆軟糖？

2. 買鉛筆，哥哥買 8 枝，弟弟買 5 枝，每枝鉛筆賣 5 元，哥哥比弟弟多花了幾元？

3. 把 50 個麵包分給 8 個小朋友，每個小朋友分 4 個，還剩下幾個麵包？

4. 安安買 1 盒蠟筆，付了 9 個 10 元，找回 4 元，這盒蠟筆賣幾元？

5. 1 盒布丁有 6 個，老師買了 5 盒又 2 個分給小朋友，每人分 1 個剛好分完，小朋友有幾人？

6. 1 包糖果賣 9 元，1 盒餅乾賣 36 元，買 5 包糖果和 1 盒餅乾，共要幾元？

七、把做法用減法算式記下來：
每題 4 分，共 12 分

1. 1 個車輪餅賣 9 元，27 元可以買幾個車輪餅？

2. 18 顆蘋果平分成 6 袋，每袋有幾顆蘋果？

3. 分組比賽，25 人分成 5 組，每組人數一樣多，1 組有幾人？

八、用有括號的乘法算式做做看看：
每題 4 分，共 12 分

1. 把 32 張貼紙平分給 8 人，每人可以分到幾張貼紙？

2. 1 本書有 45 頁，每天看 9 頁，幾天可以看完？

3. 每個花瓶插 7 朵花，28 朵花共需要幾個花瓶？