

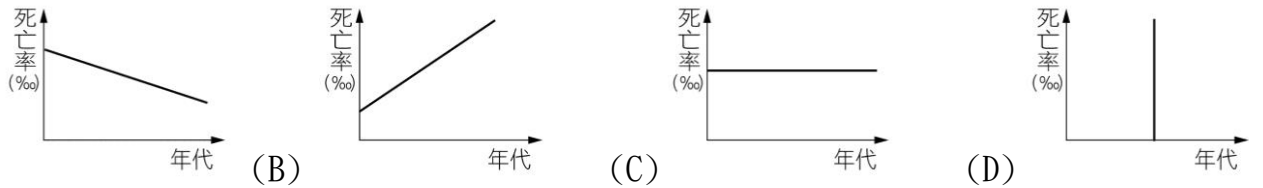
高雄市立右昌國中學 102 學年度第二學期一年級第一次段考地理科試題

一、選擇題 (共25題，每題四分)

一年 班座號

姓名

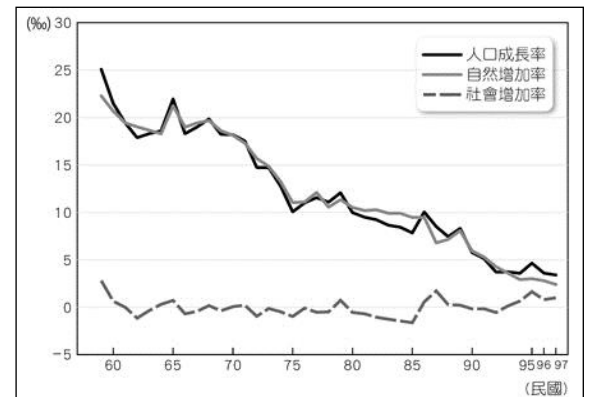
- () 1. 近百年來，開發中國家由於衛生條件的改善，以及醫療的進步，人口維持高度的成長。這些國家死亡率的變化趨勢，與下列何圖最接近？



- () 2. 【表一】為四個地區的人口資料。由表中資料研判，哪一地區人口外移的現象最嚴重？ (A)甲 (B)乙 (C)丙 (D)丁。

		地區			
		甲	乙	丙	丁
項目	出生率	14	16	25	28
	死亡率	12	7	21	25
	人口成長率	3	7	8	5

- () 3. 【圖一】為天龍國的人口成長趨勢圖，圖中是人口成長率、自然增加率與社會增加率的變化圖。依據圖中的資料判斷，下列哪個同學的敘述正確？



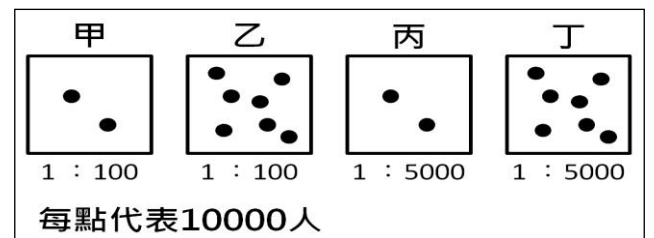
- (A)大雷神：總人口數將逐年減少
 (B)小雷神：社會增加率大於於自然增加率
 (C)黑雷神：人口成長率的變化主要是受到自然增加率的影響
 (D)紅雷神：近年來人口成長率降低是因為死亡率高。
- () 4. 林龍是位清代的福建人，他為了找尋更好的生活決定移民台灣。下列哪些因素是造成林龍移民臺灣的推力？
 (甲)家鄉山多平原少無地可耕田 (乙)臺灣平原開闊氣候溫和溼潤
 (丙)家鄉征戰年年且治安不佳 (丁)渡台要橫渡水流湍急的黑水溝
 (A)甲乙 (B)甲丙 (C)乙丙 (D)乙丁。

【表一】

【圖一】

- () 5. 在人口遷移的分類上，下列何者屬於「國際永久遷移」？
 (A)地理老師定居在好山好水的台東 (B)高雄的綠豆去金門服兵役
 (C)蟹老闆到法國藍帶廚藝學院進修 (D)納豆娶了個日本美嬌娘。

- () 6. 蟹老闆想要再開一間「蟹堡王餐廳」的分店，他認為人潮就是錢潮，所以想要找一個人口密集的地方。【圖二】為甲、乙、丙、丁四個地區的人口密度圖與其比例尺，哪個地方最適合蟹老闆開分店？

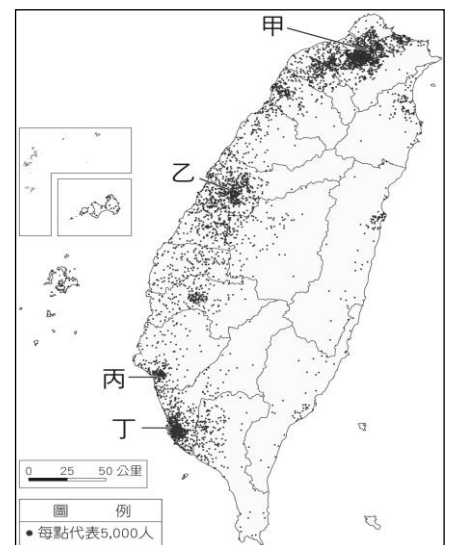


【圖二】

- () 7. 下表是各國人口密度，由表中資訊判斷下列敘述何者正確？

國家	荷蘭	日本	古巴	澳大利亞
人口密度(人/km ²)	406	335	100	3

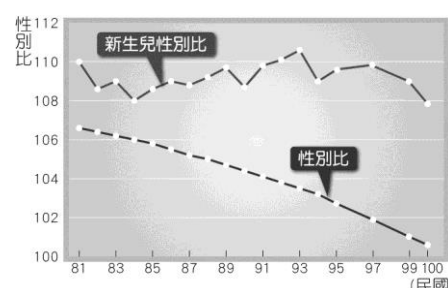
- (A)荷蘭都市聚落較多
 (B)日本國土面積較古巴小
 (C)荷蘭國民為四國中居住空間最擁擠
 (D)澳大利亞人口數量最多，人力資源最豐富
- () 8. 【圖三】是臺灣的人口分布圖，甲、乙、丙、丁分別是臺灣的四大都市，關於此圖下列何者敘述錯誤？



【圖三】

- (A)甲都市和乙都市皆是平原地形
 (B)臺灣人口大多集中在平原和盆地地形
 (C)臺灣西部發展較東部早，因而成為人口較密集的地區
 (D)甲、乙、丙、丁四個都市因為工商業發達所以人口較為稠密。

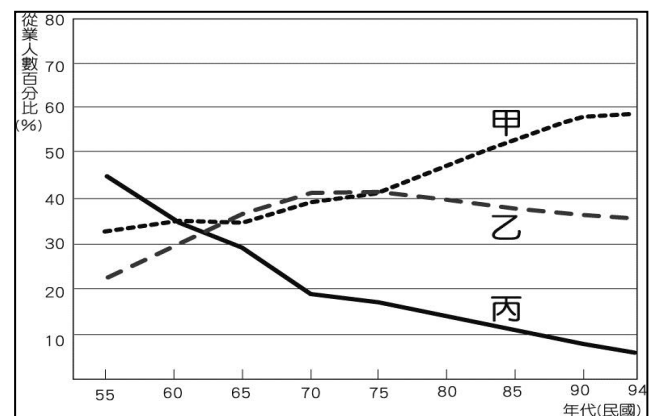
- () 9. 【圖四】是地虎國新生兒性別比及整體性別比，據圖中資訊判斷地虎國具有下列何種人口結構？



【圖四】

- (A)女性死亡率較高
 (B)男性平均壽命較長
 (C)新生兒女性人口比男性多
 (D)整體人口數量而言，男性多於女性。

- ()10. 小丸子一家七口的組成分子為：
 (甲)爺爺：67歲，退休人士 (乙)奶奶：64歲，學校地理老師 (丙)爸爸：42歲，修車師傅
 (丁)媽媽：41歲，高捷司機 (戊)哥哥：27歲，水電工(己)姊姊：14歲，國一生 (庚)小丸子：9歲，小三生。
 關於下列哪一個敘述是正確的？
 (A)小丸子家中屬於壯年人口共有5人
 (B)小丸子家的幼年性別比>100
 (C)小丸子家中扶養比為75%
 (D)小丸子家中從事第二級產業共有3人。
- ()11. 近年來，因工作或婚姻移入臺灣的外籍人口漸多，而「新住民」的議題也愈來愈受到重視。下列何者敘述**錯誤**？
 (A)新住民的移入讓臺灣文化更加多元
 (B)政府機構可多舉辦中文識字活動，協助新住民適應臺灣社會
 (C)學校可安排多元文化研習，讓我們了解不同國家的文化
 (D)新住民是從外地來的，不是臺灣人，不必跟他們打交道。
- ()12. 西元2006年起，臺灣開始開放工作者申請育嬰假，西元2009年立法院更通過「育嬰留職停薪津貼」，讓請假在家育嬰的父親或母親，可領取6個月的補助。請問：下列何者是實施上述福利措施的主要目的之一？
 (A)提高生育率 (B)增加扶養比
 (C)加強外籍配偶對臺灣的認同 (D)改善性別比例。
- ()13. 【圖五】為臺灣的三級產業從業人數變化圖。根據圖一，下列哪位同學說的是正確的？
 (A)小新：農業屬於甲產業
 (B)妮妮：乙產業是第三級產業
 (C)阿呆：第三級產業一直是臺灣就業人口最多的產業
 (D)風間：甲、乙產業的就業人口比例愈高，表示經濟發展程度愈高。
- ()14. 圖為台灣三種重要農作物的分布圖。請問：下列敘述何者正確？
 (A)甲作物為台灣重要的經濟作物
 (B)乙作物近年來種植的面積不斷擴大
 (C)乙作物適合高溫少雨的生長環境
 (D)丙作物適合生長在雲霧繚繞的丘陵地。
- ()15. 下面關於集約農業的敘述，何者**錯誤**？
 (A)主要出現在人口密度高的農業區
 (B)平均每位農民的耕地面積廣大
 (C)單位面積的產量很高
 (D)投入很多的生產資源。
- ()16. 近年來，臺灣各地方鄉鎮舉辦與當地特色及產業相結合的活動，如「高雄大寮紅豆節」、「高雄路竹蕃茄文化節」、「雲林古坑柳丁節」等，從這些活動可以看出目前臺灣農業經營具有哪項特徵？
 (A)有機農業崛起 (B)農業科技的提升
 (C)卓越農業的推廣 (D)休閒農業興起。
- ()17. 臺灣自加入WTO之後，除了享受會員國的權利之外，也必須面對許多衍生的問題。【表二】為2006年我國國產稻米與美國進口稻米之價格比較，造成二者差異的原因，與下列何項臺灣農業特色的關連性最密切？
 (A)農場經營規模小 (B)農村人口高齡化
 (C)生產集約度下降 (D)農產品趨向商品化。
- ()18. 電影《賽德克巴萊》中，賽德克族人為了生計，被迫砍下樹木，從山上扛下山賣給日人，許多寶貴的林木從此成為市場交易品。林木外銷雖然一度為臺灣賺進巨額的外匯收入，但是一但消失就難以復原。目前，政府已調整林業政策，並以下列何種作法為主要方向？
 (A)全面禁伐天然林，發展森林浴 (B)適度砍伐一些普通天然林樹種
 (C)闢林地為蔬果區，提高農業產值 (D)移植國外稀有樹種。



【圖五】



【圖六】

【表二】

產地	平均價格(新臺幣/公斤)
臺灣	25.74
美國	15.71

- () 19. 臺灣的林鳳營、初鹿等牧場，牛群都是被柵欄圍起來的。臺灣早期的牧業多以這種欄牧方式為主，其主要影響因素為何？
 (A)工資昂貴 (B)氣候溼熱 (C)土地有限 (D)技術有限。

二、題組

*題組一：閱讀以下短文，回答第21-23題。

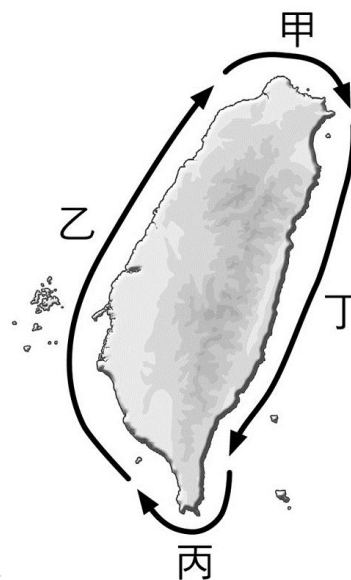
一艘才4人的屏東籍漁船廣大興28號出海捕捉黑鮪魚，9日在鵝鑾鼻東南東170哩的台灣與鄰國重疊海域捕釣黑鮪魚，竟遭鄰國軍方掃射，65歲船員洪石成不幸中槍死亡，船上設備更全毀。農委會漁業署副署長蔡日耀表示，廣大興28號目前仍在離台灣180哩左右的海面上，但該船動力盡失，已有東港友船前往，協助返台。

【東森新聞網2013年05月9日】

南韓電視台Channel A在節目《食品X檔案》中醜化台灣養殖漁業，不但拍攝抗生素「雪華黴素」空瓶，影射台灣漁民濫用抗生素。此外更播出充滿藻類的魚塢，指稱是「汙染、髒亂」，事後卻被踢爆根本是廢棄魚塢，嚴重傷害台灣漁業。節目一在南韓播出後，當地進口商立刻暫停進口，使得產地價格應聲下跌，讓台灣漁農損失慘重。經過台灣農委會和台灣鯛協會跨國抗議後，該電視台15日僅在官網刊登澄清聲明，「節目中介紹水面佈滿藻類的養殖場，並非養殖中的魚塢，此外，目前台灣鯛養殖場使用的水質均符合國際認證標準。」Channel A則是強調，該節目是針對南韓不肖業者，用台灣鯛魚片冒充海鯛販售進行採訪，絕非惡意損害台灣鯛形象。


【東森新聞網2013年11月17日】

- () 20. 根據上文所述，下列敘述何者**錯誤**？
 (A)黑鮪魚順著黑潮北上迴游至台灣附近海域 (B)依據作業範圍，廣大興28號是屬於遠洋漁業船隻
 (C)文中鄰國是菲律賓 (D)依照海水流動的方向，黑潮屬於暖流。
- () 21. 台灣四面環海是屬於海洋國家，漁業是海島型經濟的重要產業，下列關於台灣的漁業敘述，何者正確？
 (A)養殖漁業為臺灣最大的漁業產值來源
 (B)台灣海峽與巴士海峽大陸棚廣大，有很多的底棲魚類。
 (C)改善臺灣發展養殖漁業時常造成地層下陷的環境問題，近年來政府大力推廣海上箱網養殖
 (D)對於漁業資源漸漸枯竭的解決方式，政府應該朝向鬆綁限捕的相關規定。
- () 22. 第二則新聞中，南韓拍攝台灣鯛養殖場的地點，應該位在【圖七】中哪一處海岸？
 (A)甲 (B)乙 (C)丙 (D)丁。



【圖七】

*題組二：閱讀以下短文，回答第23-25題。



- () 23. 關於人口金字塔圖，下列敘述何者**錯誤**？
 (A)每五歲為一個年齡層
 (B)人口金字塔圖可同時觀察出性別、年齡兩種結構。
 (C)人口金字塔圖無法推估壯年人口負擔輕或重。
 (D)人口金字塔圖可推估不同地區的經濟發展程度的差異。
- () 24. 關於甲、乙、丙三國的人口金字塔圖，下列敘述何者正確？
 (A)甲國為彈頭型金字塔
 (B)乙國政府應多鼓勵人民生育、補助育兒津貼
 (C)丙國已邁入高齡化社會
 (D)可由金字塔圖看出甲國的人口數較乙、丙兩國多。
- () 25. 若上圖為地虎國人口金字塔圖三階段，地虎國從過去至現在經濟已有大幅進步，請依圖判斷，地虎國人口金字塔依時間順序（過去到現在）的排列為何？
 (A)甲乙丙 (B)乙丙甲 (C)丙甲乙 (D)甲丙乙。

【 試題結束，請仔細檢查 】

