

99 學年度下學期六年級電腦科期末紙筆作業 A 卷




以下是操作 moviemaker 時的相關問題

- () 下列哪一個是 moviemaker 專案檔的副檔名? (1) ppts (2)ppt(3) mswmm (4) wma
- () 下列哪一項代表來源影片本身的音軌?(1)音訊/音樂(2)音訊(3)轉換(4)重疊字幕。




- () 上圖中，摘下帽子這段影片的背景音樂是(1)01 曲目 1(2)來與我一起享受吧，女孩 (3) 摘下帽子 001(4)重疊字幕。

- () 上圖中，錄音符號是哪一個?(1)  (2)  (3) 。

- () 上圖中，放大圖示符號是哪一個?(1)  (2)  (3) 。





- () 右圖中，要使用前插的耳機麥克風錄音時，應該要選擇哪一個音訊輸入來源?(1)網路音量(2) 立體聲混音 (3)麥克風音量(4) FrontMic。











- () 要錄製聲音檔的時候，須注意將麥克風控制打開，是音量控制中的哪一項?(1)output(2)input(3)CD 播放機(4)網路音量
- () 片尾的參與名單速度要加快應該要(1)縮短片尾時間(2)加長片尾時間(3)剪片(4)轉檔
- () 錄製的旁白要放在哪一軌?(1)視訊(2)音訊(3)音訊\音樂(4)重疊字幕
- () 要匯入的影片支援下列哪一種格式?(1)vob(2)asf(3)jpg(4)avi
- () 要匯入的聲音檔支援下列哪一種格式? (1)mp3(2)midi(3)mpg(4)swm。
- () 下列哪一種影片格式畫質最好?(1)avi(2)wmv(3)mpg(4)midi。
- () 下列哪一種影片格式最小?(1)avi(2)wmv(3)mpg(4)vob。







原圖如左

- () 哪一個符號可擷取單格影片(照片)? (1)  (2)  (3)  (4) 。

- () 哪一個符號可播放影片? (1)  (2)  (3)  (4) 。

- () 哪一個符號可剪裁影片?(1)  (2)  (3)  (4) 。

- () 哪一個符號可暫停影片? (1)  (2)  (3)  (4) 。

- () 利用鍵盤做檔案加選是按哪一鍵? (1) Ctrl (2) Alt (3)Ctrl+a (4)Shift
- () 利用鍵盤做檔案連選是按哪一鍵? (1) Ctrl (2) Alt (3) Ctrl+a (4) Shift
- () 利用鍵盤做檔案全選是按哪一鍵? (1) Ctrl (2)Alt (3) Ctrl+a (4) Shift?

(二)自我省思 選一個最高分的(沒有標準答案)

5 曾經教同學	4 會獨自操作	3 會操作	2 要加強	1 不會
---------	---------	-------	-------	------

21. ()我了解網路的危險性，並且懂得保護自己。
22. ()我會運用企畫書規畫影片拍攝工作內容。
23. ()我會運用 moviemaker 製作多媒體(包含音樂、文字)影片。
24. ()我上課用心聽講，認真練習。

(三)給老師的建議或想說的話 (字請寫工整，認真思考)

(四)影片製作評分表

作者姓名: 六年 班 號 姓名: 得分: _____

	得分		內容
1	5		有片名(片頭)
2	5		有重疊字幕
3	5		有參與名單(片尾)
4	5		有視訊效果
5	5		片尾有註明音樂來源:第 51 屆音樂班授權
6	5		有視訊切換效果
7	5		有旁白
8	5		有背景樂
9	5		有轉成 wmv 電影檔
10	5		影片時間 1-5 分鐘
11	5		影片內容無任何不雅
總分	滿分 95	加基本分 40	得分: _____