

桃園縣立文欣國民小學 97 學年度上學期 音樂 領域 四年級期末考查試卷

班級：_____ 姓名：_____ 座號：_____




一、視譜(請寫出以下音名) 45%(每格 3 分)



二、請寫出以下名稱以及拍子時值(長度) 48%(每格 3 分)

			
_____	_____	_____	_____
			
_____	_____	_____	唸作 _____

三、基本樂理 7%(每格 1 分)

	左圖的名稱為_____，代表音要_____。
	左圖的名稱為_____，代表音要_____。
	左圖的拍號念法為_____，其中 4 代表_____， 3 代表_____。