

一、連連看 (每題 1 分, 共 6 分)

- 5 的 2 倍  24
- 8 的 4 倍  36
- 4 的 6 倍  10
- 6 的 6 倍  32
- 9 的 2 倍  16
- 2 的 8 倍  18

二、勾選題 (每格 2 分, 共 40 分)

請將正確的答案在  裡打  $\checkmark$

1. 容器的傾斜時, 水平線會是什麼樣子?



2. 哪些圖中有垂直現象?



3. 哪根指針是鉛直線?



- 時針
- 分針


4. 生活中哪樣東西的面積最小?

- 5 元硬幣
- 50 元硬幣

5. 哪些圖中有平行現象?



6. 哪一個動物最重?



7. 想想看, 有幾個圓點?



- 4 的 3 倍, 共 12 個
- 3 的 4 倍, 共 12 個

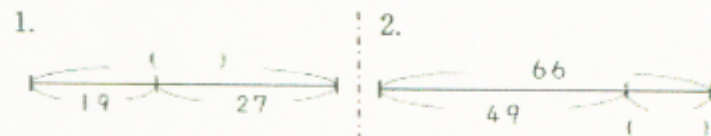
8. 選出正確的算式:



- $2+2+2+2+2 = 10$
- $5+5 = 10$

三、請用直式算算看

(每題 2 分, 共 4 分)



四、填填看看 (每格2分, 共34分)

1. 小文的體重比小晴輕, 花花<sub>的</sub>體重比小晴重。請問誰的體重最重? ( )

2.  $8+8+8+8+8=( )\times( )=( )$

3.  $5\times 4$  比  $5\times 6$  少( )個5, 是少( )。

4. 在□內填入+ 或× 或- , 讓算式是正確的。

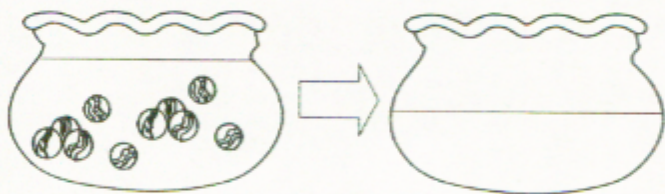
(1)  $2\square 7=14$

(2)  $3\square 3=6$

(3)  $8\square 2=6$

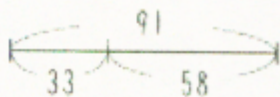
(4)  $5\square 1=5$

5. 魚缸裡放了10顆彈珠, 把彈珠撈走後, 魚缸裡的水會變多、變少還是不變? ( )



一輛汽車有( )個輪胎, 7輛汽車共有( )個輪胎, 用連加算式記成: \_\_\_\_\_

7. 看圖寫答案




$33+58=( )$

$91-58=( )$

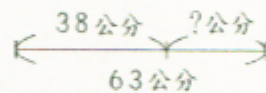
$91-33=( )$

五、用算式填充題中問題, 再用直式算算看看。(每題4分)

1. 哥哥有一些貼紙, 送給弟弟57張後, 還剩下26張, 哥哥原本有幾張貼紙?



2. 小樹高38公分, 還要再長幾公分, 才有63公分?



六、用乘法算式算算看看

(每題4分)

1. 一串珠子有8顆, 3串共有幾顆珠子?

2. 妹妹有7個5元, 請問妹妹共有多少錢?