




一、選出正確的答案 (共 10 分)

- ( ) 按照順序排列，□、20、21、22、□ 內的數字是多多少少？ ① 19 ② 10 ③ 11。
- ( ) 二十、五用阿拉伯數字寫成： ① 20 ② 205 ③ 25。
- ( )  和  共有多少？算式是？ ①  $6+3=9$  ②  $10-4=6$  ③  $6+4=10$ 。
- ( ) ，□ 比 ★ 多多少？算式要怎麼寫？ ①  $6-5=2$  ②  $8-4=4$  ③  $10-4=6$ 。
- ( ) 長針指著 12，短針指著 12，這樣是幾點鐘？ ① 12 點鐘 ② 6 點鐘 ③ 5 點鐘。

二、填填看 (共 20 分)

1. 按照順序填一填：

21 → ( ) → 23 → ( ) →  
 25 → ( ) → 27 → ( ) →  
 29 → ( )

2. 數一數，有幾隻？ ( ) 隻



3. 數一數，有幾顆？ ( ) 顆



4. 數一數，有幾個？ ( ) 個



5. 二十、四用阿拉伯數字寫成：( )。

6. 17 讀作：( )。

三、寫寫看 (共 24 分)

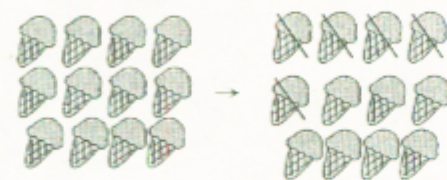
1. 看圖寫寫看：



原有 7 隻，跳走 4 隻。

$7 - ( ) = ( )$


2. 看圖寫寫看：



原有 12 個，吃掉 5 個。

$12 - ( ) = ( )$

3. 寫出時鐘上的時間：




4. 25、30、11、20、19、8，由大到小，按照順序從左邊開始寫下來：

( )、( )、( )、( )、( )、( )

四、做做看 (共 24 分)

1. 從  開始數，第 8 個圈內打✓：



2. 從  開始數，第 5 個圈內打×：



3. 看圖回答問題：



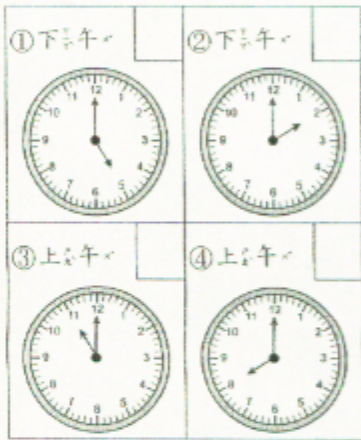
○ 有 ( ) 個，★ 有 ( ) 個。  
 把比較多的圈起來，( ○、★ ) 多，  
 多 ( ) 個。

4. 比較少的打 $\checkmark$ ，並填入正確答案：



- 骨 少，少 ( ) 個
- 猴 少

5. 下面的是同一天內的鐘面，按照時間的先後順序寫出：1、2、3、4。



五、用算式把做法記下來：(共8分)

1. 媽媽早上買了3個甜甜圈，晚上又買了9個，媽媽一共買了幾個甜甜圈？

算式：

一共買了 ( ) 個

2. 小美有7元，買了一枝7元的鉛筆，小美還剩多少元？

算式：

剩 ( ) 元

六、圖圖看(共8分)

1. 圈出第9個：



第1個  
第3個

2.



第1個

第6個

排在第幾個？把答案圈出來。

第1個	第3個	第2個
-----	-----	-----

3.

圈出6棵	 第1棵
圈出第6棵	 第1棵

七、畫畫看(共6分)

1. 看時間，畫畫看，畫出短針：

2 點鐘



2. 看時間，畫畫看，畫出短針：

10 點鐘

